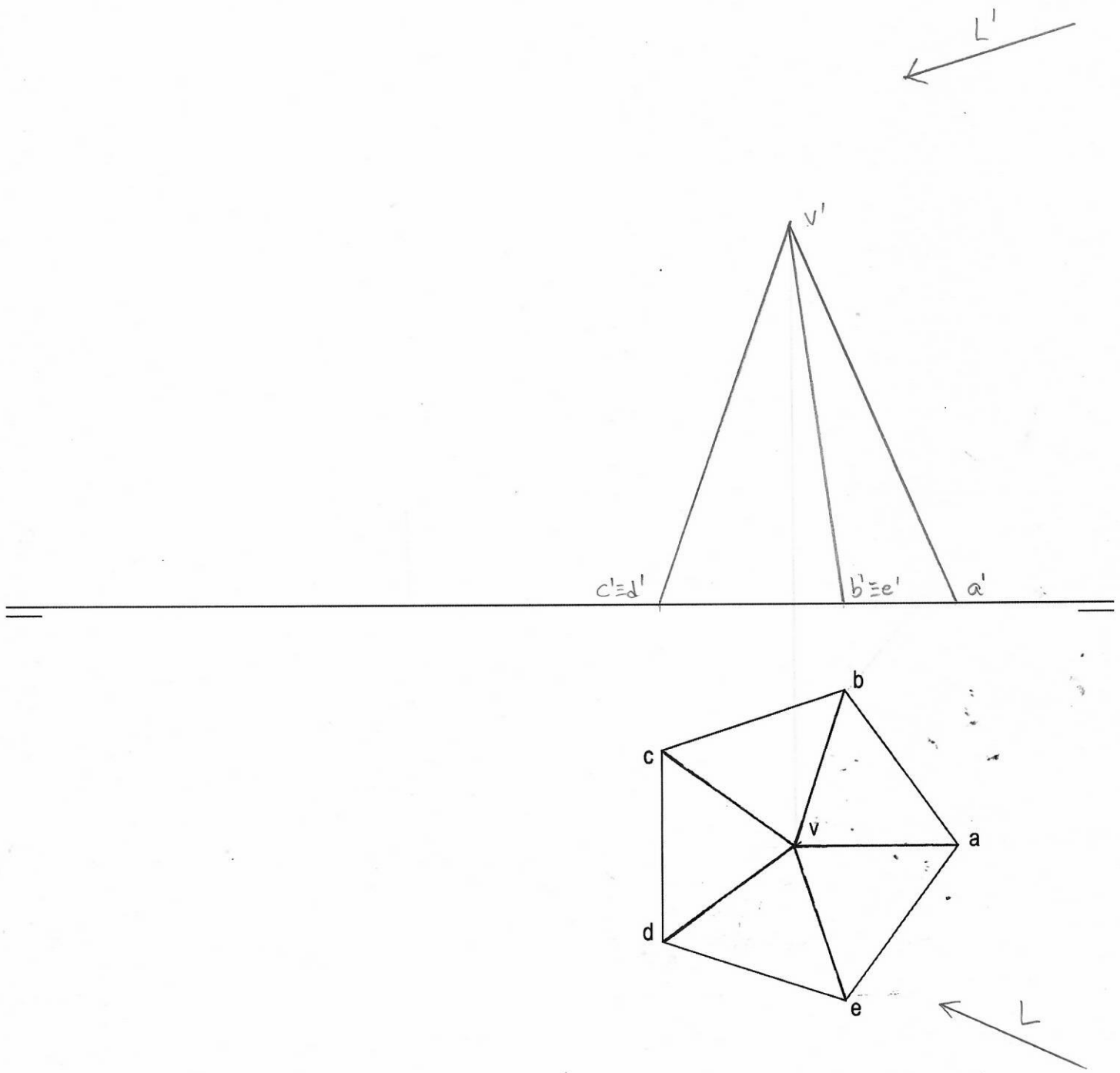


OPCIÓN B

EJERCICIO 1º: SISTEMA DIÉDRICO

Sombrea que produce la pirámide sobre los planos PH y PH según la dirección de la luz L-L', considerando ambos planos opacos

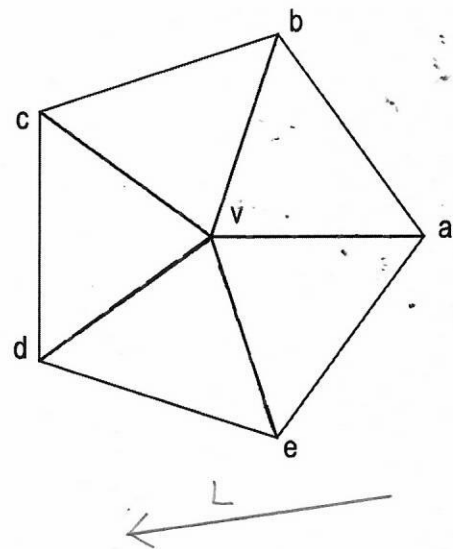
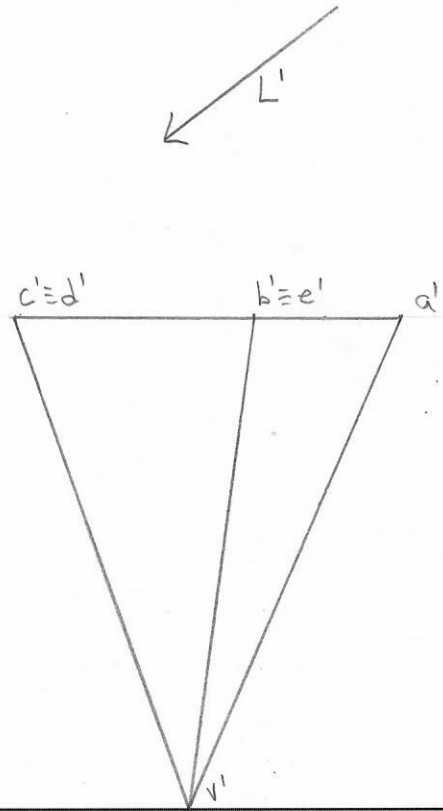


Puntuación:	
Apartado 1	0,5 puntos
Apartado 2	0,5 puntos
Apartado 3	1,0 puntos
Apartado 4	1,0 puntos
Puntuación máxima	3,0 puntos

OPCIÓN B

EJERCICIO 1º: SISTEMA DIÉDRICO

Dibujar la sombra propia, arrojada sobre el PH y autoarrojada, considerando la pirámide dada, sabiendo que es hueca y ^{que} no tiene base



Puntuación:	
Apartado 1	0,5 puntos
Apartado 2	0,5 puntos
Apartado 3	1,0 puntos
Apartado 4	1,0 puntos
Puntuación máxima	3,0 puntos

Dibujar todas las sombras que produce la semiesfera hueca según la dirección de luz L, incluyendo sombra propia, sombra arrojada sobre el plano horizontal y sombra autoarrojada

